

EVALUACIÓN DE BACHILLERATO PARA EL ACCESO A LA UNIVERSIDAD (EBAU)

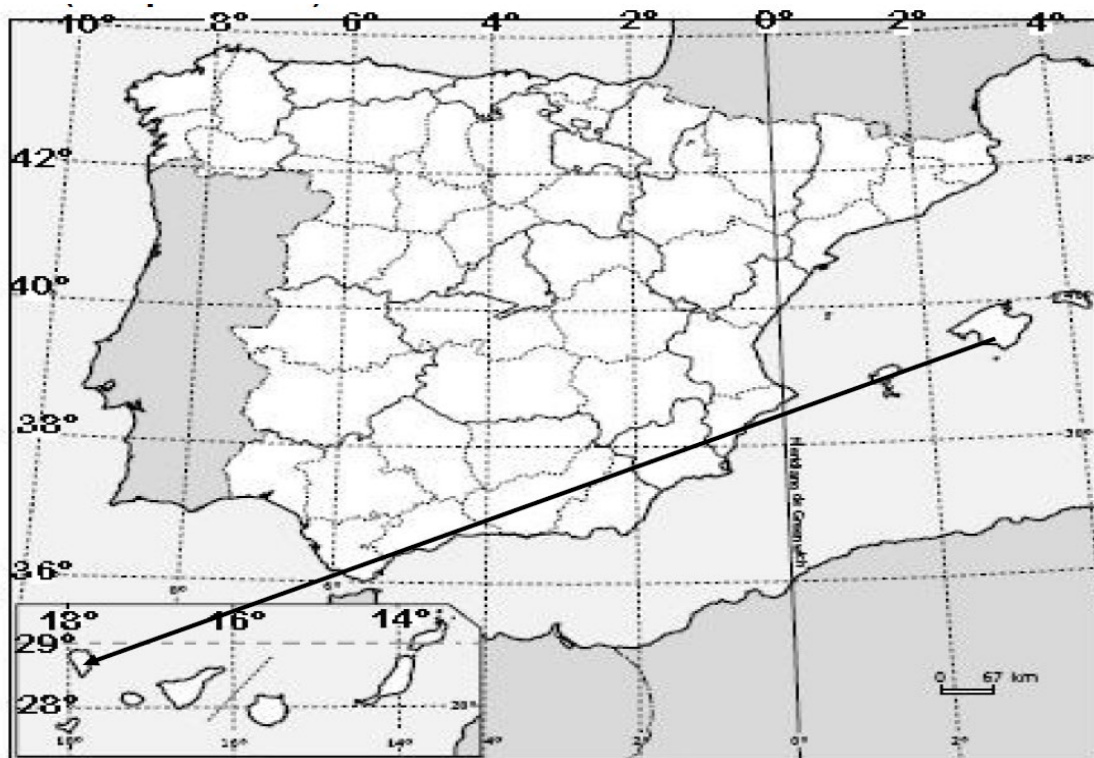
FASE DE OPCIÓN
CURSO 2022-2023

MATERIA: GEOGRAFÍA	(1)
Convocatoria:	

Instrucciones: Debes elegir una de las dos opciones, A o B, y no puedes intercambiar las preguntas de cada una de ellas. Cada opción consta de cinco preguntas valoradas con dos puntos cada una.

OPCIÓN A

1.- EJERCICIO PRÁCTICO. Mapa de localización: recorrido provincial / comunidades (capitales) y coordenadas geográficas. (1 punto cada cuestión) Total: 2 puntos).



3.1.- ¿Cuántos grados de longitud hay entre los extremos de la flecha representada? Anota también las coordenadas de ambos puntos.

3.2.- Siguiendo el orden definido por el sentido de la flecha, indica el nombre de las provincias españolas atravesadas por la misma, así como el de las Comunidades Autónomas a las que pertenecen y las capitales de esas Comunidades Autónomas.

2.- COMENTARIO DE PAISAJE. Analiza el siguiente paisaje contestando a las dos preguntas propuestas (0,5 puntos la primera cuestión y 1,5 la segunda) (Total 2 puntos).



<http://geografiadebachillerato.wikispaces.com>

- a) Clasificación, justificación y tipología del paisaje
- b) Comentario del paisaje

3.- CONCEPTOS (0,5 puntos cada uno). Contesta los CUATRO conceptos (dos del Bloque IV y dos del bloque V) y **ESCRIBE**, en tu hoja de examen, sus enunciados, así como la correspondiente respuesta correcta de cada uno (Total: 2 puntos).

3.1. BLOQUE IV – La agricultura ecológica:

- * Se practica solo en regiones con baja densidad de población.
- * Está especializada en productos muy cotizados.
- * Cultiva sin usar productos químicos ni transgénicos.

3.2. BLOQUE IV – El desarrollo sostenible es:

- * Es una política económica encaminada a proporcionar el bienestar social a toda la ciudadanía.
- * Es un modelo de desarrollo encaminado a conseguir la compatibilidad entre el desarrollo económico, la conservación de los recursos naturales y el bienestar social.
- * Es un conjunto de ayudas para reducir las disparidades medioambientales de las distintas regiones europeas.

3.3. BLOQUE V – El Estado de las Autonomías reconoce:

- * La capacidad de las Comunidades Autónomas para firmar tratados internacionales.
- * La división administrativa del territorio español en pueblos y ciudades.
- * La diversidad de los territorios que integran España y su capacidad de autogobierno en los asuntos de su competencia.

3.4. BLOQUE V – En Canarias, la “capitalidad compartida” se refiere:

- * Cada año va rotando por islas la capital de la Comunidad Autónoma de Canarias.
- * Cada tres años se alterna la capital de la Comunidad Autónoma entre Las Palmas de Gran Canaria y Santa Cruz de Tenerife.
- * Las ciudades de Las Palmas de Gran Canaria y Santa Cruz de Tenerife son las capitales de la Comunidad Autónoma de Canarias.

4.- PREGUNTA TEÓRICA (Total 2 puntos)

Repercusiones positivas y negativas de la actividad turística en Canarias


Criterio de Evaluación: Se trata de señalar las repercusiones económicas, sociales y medioambientales, tanto positivas como negativas, asociadas a la actividad turística en Canarias

5.-PREGUNTA PRÁCTICA (Total 2 puntos, 1 punto cada una)

Pisos de la vegetación canaria

5.1.- Describe el modelo de escalonamiento de la vegetación canaria identificando los pisos que los componen y las diferencias de su distribución según las vertientes.

5.2.- Explica las características más importantes de las dos grandes formaciones forestales de Canarias (Laurisilva y Pinar).



**EVALUACIÓN DE BACHILLERATO
PARA EL ACCESO A LA UNIVERSIDAD
(EBAU)
FASE DE OPCIÓN
CURSO 2022–2023**

MATERIA: GEOGRAFÍA

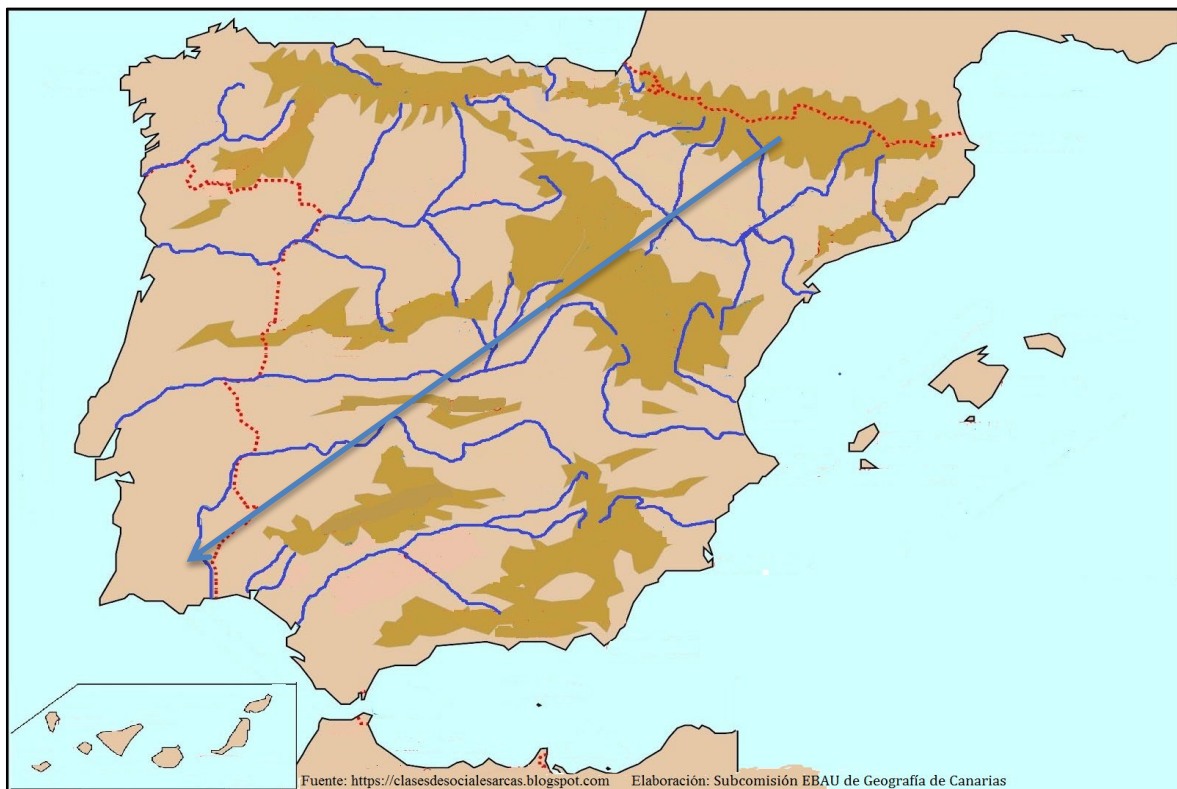
1

Convocatoria:

Instrucciones: Debes elegir una de las dos opciones, A o B, y no puedes intercambiar las preguntas de cada una de ellas. Cada opción consta de cinco preguntas valoradas con dos puntos cada una.

OPCIÓN B

1.- EJERCICIO PRÁCTICO. Mapa Físico: Identificación y localización de las grandes unidades de relieve (1 punto cada cuestión) (Total: 2 puntos).



- a) Escribe los nombres de los relieves montañosos (cordilleras, sistemas, montes...) atravesados por la flecha, citándolos en el orden propuesto.
- b) Indica los nombres de las depresiones (cuencas hidrográficas, ríos...) atravesadas por la flecha, citándolas en el orden propuesto.

2.- COMENTARIO DE PAISAJE. Analiza el siguiente paisaje contestando a las dos preguntas propuestas (0,5 puntos la primera cuestión y 1,5 la segunda) (Total 2 puntos).



- c) Clasificación, justificación y tipología del paisaje
- d) Comentario del paisaje

3.- CONCEPTOS (0,5 puntos cada uno). Contesta los CUATRO conceptos (dos del Bloque IV y dos del bloque V) y **ESCRIBE**, en tu hoja de examen, sus enunciados, así como la correspondiente respuesta correcta de cada uno (Total: 2 puntos).

B3.1 Bloque IV. El aprovechamiento de la fuerza del viento se realiza a través de:

- * La energía mareomotriz.
- * La energía eólica.
- * La energía biomasa.

B3.2 Bloque IV. Las medidas económicas que conlleva la reconversión industrial implican:

- * El incremento de la producción industrial y el aumento de la plantilla de las empresas en crisis.
- * La reducción de subvenciones, créditos y deducciones fiscales a las empresas en crisis.
- * La reestructuración o ajuste empresarial y sectorial de las empresas en crisis.

B3.3 Bloque V. La Globalización ha supuesto:

- * El mantenimiento de las fronteras estatales como marco de referencia para todas las actividades.
- * La reducción de la diversidad cultural y natural.
- * La disminución del comercio mundial.

B3.4 Bloque V. Los Fondos Estructurales son:

- * Un conjunto de ayudas de la Unión Europea para los países que apuestan por un desarrollo no sostenible.
- * Recursos financieros de la Política Comunitaria para reducir los desequilibrios entre las regiones de la Unión Europea.
- * Instrumentos financieros de la Unión Europea destinados a los Estados fundadores de la Comunidad Económica Europea.

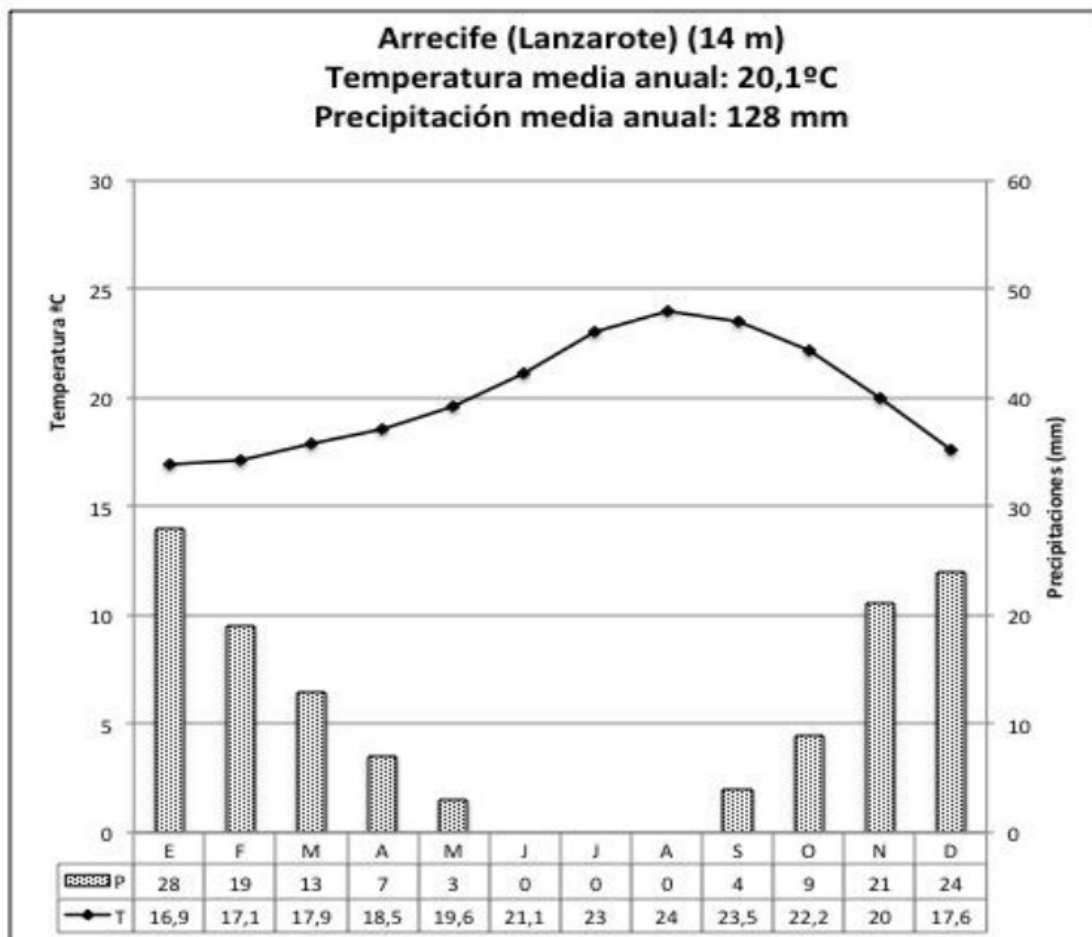
4.- PREGUNTA TEÓRICA (Total 2 puntos)

Las repercusiones del cambio climático en España.

Criterios de evaluación: valorar las repercusiones ambientales, sociales y económicas derivadas del cambio climático en el territorio español e identificar las posibles soluciones para invertir este proceso.

5.-PREGUNTA PRÁCTICA

Climograma de Arrecife. Responde a las siguientes cuestiones (1 punto cada cuestión) (Total:2 puntos)



a) Describe la gráfica y comenta las principales características de las temperaturas (media anual, amplitud térmica y reparto estacional), las precipitaciones (precipitación media anual y reparto estacional) y de la aridez (meses secos).

b) Identifica el tipo de clima y comenta sus relaciones con el paisaje vegetal de la zona, hidrografía y actividades económicas.