

**PRUEBA DE ACCESO A LOS
CICLOS FORMATIVOS DE GRADO MEDIO**

*Resolución de 15 de marzo de 2022 (BOC N° 58. Miércoles 23 de marzo de 2022)
(DURACIÓN DE LA PRUEBA 3,5 HORAS)*

NOMBRE	
APELLIDOS	
DNI	
Nº EXAMEN	

DATOS A CUMPLIMENTAR POR LA COMISIÓN DE EVALUACIÓN	
• Puntuación obtenida en la PARTE A: SOCIO-LINGÜÍSTICA.	
• Puntuación obtenida en la PARTE B: MATEMÁTICAS.	
• Puntuación obtenida en la PARTE C: CIENTÍFICO-TÉCNICA.	
• Puntuación obtenida en la PARTE D: LENGUA EXTRANJERA.	
CALIFICACIÓN MEDIA DE LA PRUEBA	

ORGANIZACIÓN DE LA PRUEBA
<p>PARTES DE LA PRUEBA: La prueba está organizada en <u>cuatro partes</u>:</p> <p>A) Parte Sociolingüística: incluye preguntas de Lengua Castellana y Literatura, Ciencias Sociales y Geografía e Historia.</p> <p>B) Parte de Matemáticas: incluye preguntas de Matemáticas.</p> <p>C) Parte Científico-técnica: incluye preguntas de Ciencias de la Naturaleza y Tecnología.</p> <p>D) Parte de Lengua Extranjera. Parte voluntaria (inglés o francés).</p>
<p>TIPO DE PRUEBA:</p> <ul style="list-style-type: none"> • Todas las partes de la prueba se presentan como cuestionarios tipo test. • En cada cuestión del test <u>sólo una opción es la correcta</u> y deberá <u>marcarla rodeando con un círculo la letra</u> de la respuesta que considere acertada. • Las respuestas en blanco o erróneas no puntúan ni penalizan de ningún modo.
<p>MATERIAL PARA LA PRUEBA:</p> <ul style="list-style-type: none"> • Se permite el uso de calculadora no programable. • No se permite el uso de diccionario en el desarrollo de la prueba. • Si necesita hacer algún cálculo o anotación para responder, podrá hacer uso de los folios o caras en blanco del cuestionario.

CRITERIOS GENERALES DE CALIFICACIÓN DE LA PRUEBA

CALIFICACIÓN DE LAS PARTES DE LA PRUEBA:

- Cada una de las cuatro partes de la prueba (socio-lingüística, matemáticas, científico-técnica y de lengua extranjera) se calificarán por separado.
- Cada parte de la prueba se calificará entre cero y diez, con dos decimales, siguiendo los criterios específicos de calificación de cada una.

CÁLCULO DE LA NOTA FINAL DE LA PRUEBA:

- Se calculará la nota final siempre que se obtenga, al menos, una puntuación de cuatro puntos en cada una de las partes obligatorias (socio-lingüística, matemáticas y científico-técnica) y será la **media aritmética de estas**, expresada con dos decimales.
- Se considerará **positiva la calificación de cinco puntos o superior** en la media aritmética anterior.
- **La parte de Lengua Extranjera tiene carácter voluntario.** Esta parte contará para la media siempre que su calificación sea superior a la media aritmética de las partes obligatorias.

CRITERIOS DE CALIFICACIÓN ESPECÍFICOS DE LA PARTE A: *SOCIO-LINGÜÍSTICA.*

Puntuación de la parte de Lengua Castellana:

- Consta de 20 cuestiones sobre un texto, cada cuestión califica 0,3 puntos.
- **Total: 6 puntos.**

Puntuación de la parte de Ciencias Sociales, Geografía e Historia:

- Consta de 10 cuestiones, cada cuestión califica 0,4 puntos.
- **Total: 4 puntos.**

CRITERIOS DE CALIFICACIÓN ESPECÍFICOS DE LA PARTE B: *MATEMÁTICAS.*

Puntuación de la parte de Matemáticas:

- Consta de 10 cuestiones, cada cuestión califica 1 punto.
- **Total: 10 puntos.**
- **Debe razonarse cada respuesta.**

CRITERIOS DE CALIFICACIÓN ESPECÍFICOS DE LA PARTE C: *CIENTÍFICO-TÉCNICA.*

Puntuación de la parte de Ciencias de la Naturaleza y Tecnología:

- Consta de 10 cuestiones, cada cuestión califica 1 punto.
- **Total: 10 puntos.**

CRITERIOS DE CALIFICACIÓN ESPECÍFICOS DE LA PARTE D: *LENGUA EXTRANJERA (Voluntaria)*

Puntuación de la parte de Lengua Extranjera (Inglés o Francés):

- Consta de 10 cuestiones, cada cuestión califica 1 punto.
- **Total: 10 puntos.**

PARTE A: SOCIO- LINGÜÍSTICA	NOMBRE	
	APELLIDOS	
	DNI	
	Nº EXAMEN	

Puntuación LCL:		Puntuación CCSS, G^a e H^a:	
Puntuación total (LCL + CCSS, G^a e H^a) :			

LENGUA CASTELLANA Y LITERATURA

TEXTO

Twitch

Para saber si algo es *mainstream* hay que comprobar cuántos presentadores de [La Sexta](#) hay en el ajo. Primero arribaron a Instagram y luego a TikTok, y ahora navegan por los acantilados de Twitch. Todo personaje público necesita estar en cuantas más redes mejor, por si nos olvidamos de su existencia. Qué esclavitud.

Twitch hace dos años era territorio abonado para el videojuego. El salto generacional estaba ahí. Una, de pequeña, si contemplaba a otros jugar era porque no tenía monedas para la máquina. Y ahora los adolescentes ven jugar a otros ora para aprender a pasarse el juego, ora para escuchar los chascarrillos del jugador. La industria del videojuego ya incluye sillas especiales, teclados retroiluminados y almohadillas para evitar el dolor en los metacarpos.

Twitch es un vasto océano en el que tan pronto aparece una chica lamiendo un micrófono (subyugante género, por cierto) como una persona sin discurso hablando con siete mil fulanos que han pagado para poder interactuar. Si usted quiere enrolarse en este barco dese prisa, que dentro de unos meses ya estará el mercado copado.

Pero más allá de lo crematístico hay algo en Twitch que une a la generación zeta con las generaciones de antes de la guerra: la compañía. Veo tantos canales, tanta gente que solo está ahí para hablar... Escucho tantas voces y veo tantas caras, tanta palabra hueca meciendo la soledad del personal, que solo puedo pensar que hay mucha gente —mucha más de la que pensamos— que para no estar sola se conecta a una pantalla a que le cuenten lo que sea, como los vigilantes nocturnos se conectan a la radio para pasar la jornada. Y cuando veo una familia en la que todos están con el móvil pienso que quizás, sin la pantalla, no tendrían nada que contarse.

(Twitch, EL PAÍS, Jimina Sabadú, [24 de enero de 2022](#))

CUESTIONES:

1. “Twitch” es:

- a) Un texto periodístico de opinión, puesto que aparece publicado en el periódico *EL PAÍS* y en él la autora expresa lo que piensa sobre el auge de la plataforma Twitch.
- b) Un texto periodístico de información, puesto que aparece publicado en el periódico *EL PAÍS* y en él se informa y se aportan datos sobre el auge de la plataforma Twitch.
- c) Un texto literario porque utiliza metáforas, comparaciones, etc. de la plataforma con “océano” y “barco”.

2. La expresión “Primero arribaron a Instagram y luego a TikTok, y ahora navegan por los acantilados de Twitch” significa:

- a) Que las redes sociales no son imprescindibles para los presentadores de La Sexta porque ya tienen la televisión.
- b) Que los presentadores de televisión únicamente suelen interactuar en Instagram y en TikTok.
- c) Que los presentadores de televisión comenzaron en Instagram y posteriormente se han ido incorporando al resto de redes que han ido surgiendo.

3. En el segundo párrafo, con la expresión “Twitch hace dos años era territorio abonado para el videojuego” la autora quiere decir:

- a) Que hace dos años Twitch lo usaban para los juegos que tenían que ver con los abonados de diferentes ámbitos.
- b) Que Twitch era mayoritariamente una plataforma garantizada para los videojuegos.
- c) Que los que tenían los terrenos abonados podían usar Twitch para jugar.

4. La palabra “videojuego” es:

- a) Una palabra compuesta, formada a partir de dos simples primitivas: “vídeo” y “juego”.
- b) Una palabra derivada, formada a partir de dos simples primitivas: “vídeo” y “juego”.
- c) Una palabra compuesta, formada a partir de un lexema (“vídeo”) y un morfema sufijo (“juego”).

5. “Redes”, “Instagram” y “TikTok” son:

- a) Sinónimos. “Redes” es el hiperónimo, “Instagram” y “TikTok” son sus correspondientes hipónimos.
- b) Antónimos. “Redes” es el hiperónimo, “Instagram” y “TikTok” son sus correspondientes hipónimos.
- c) Topónimos. “Redes” es el hiperónimo, “Instagram” y “TikTok” son sus correspondientes hipónimos.

6. En la expresión “Y ahora los adolescentes ven jugar a otros”:

- a) “Ahora” es un adjetivo de tiempo, que sirve para situar un hecho en un momento concreto.
- b) “Ahora” es un sustantivo de tiempo, que sirve para situar un hecho en un momento concreto.
- c) “Ahora” es un adverbio de tiempo, que sirve para situar un hecho en un momento concreto.

7. Con la expresión “Todo personaje público necesita estar en cuantas más redes mejor, por si nos olvidamos de su existencia. Qué esclavitud.” se quiere decir:

- a) Que muchos de ellos se ven obligados y casi esclavizados a interactuar en las redes porque, de lo contrario, pueden perder popularidad.
- b) Que a todos les gusta estar en las redes porque son modernos y quieren parecerse a las generaciones jóvenes y, en absoluto, no se sienten obligados a ello.
- c) Que a todos les gusta pertenecer a las redes porque es una manera de estar al día, de conocer a sus seguidores y que lo hacen para evitar tener popularidad.

8. “Y ahora los adolescentes ven jugar a otros ora para aprender a pasarse el juego, ora para escuchar los chascarrillos del jugador. La industria del videojuego ya incluye sillas especiales, teclados retroiluminados y almohadillas para evitar el dolor en los metacarpos”. Elige cuál de las siguientes expresiones significa aproximadamente lo mismo que esta que aparece en el segundo párrafo del texto:

- Actualmente los adolescentes ven jugar en Twitch porque no tienen dinero para hacerlo, como cuando no se tenían monedas para las tragaperras. Les interesa ver jugar a otros para aprender pero les disgustan los chascarrillos que se dicen. Es un hecho que todo esto se ha convertido en una industria que ya dispone de todo tipo de objetos para facilitar la comodidad de los jugadores (sillas especiales, teclados con luces, almohadillas).
- Actualmente a los adolescentes les interesa ver jugar a otros para aprender y jugar o bien para escuchar los chistes y comentarios que se dicen. Es un hecho que todo esto se ha convertido en una industria que ya dispone de todo tipo de objetos para facilitar la comodidad de los jugadores (sillas especiales, teclados con luces, almohadillas).
- Actualmente a los adolescentes les interesa ver jugar a otros para aprender y jugar o bien para escuchar los chistes y comentarios que se dicen. De todos modos, queda aún mucho camino por delante hasta que esta plataforma pueda convertirse en industria con todo tipo de objetos para facilitar la comodidad de los jugadores.

9. Lee el inicio del último párrafo y elige cuál de las siguientes afirmaciones es correcta:

- Lo que es evidente que más allá de la compañía, lo único que buscan las nuevas y viejas generaciones en Twitch es la compensación económica.
- Lo que es evidente es que más que lo económico, lo que une en Twitch a las nuevas generaciones con las anteriores es que la plataforma les proporciona compañía.
- Que tanto la generación zeta como las anteriores van a acabar quemadas y solas por la pertenencia a Twitch, como si estuvieran en un crematorio.

10. “Twitch es un vasto océano”, es:

- Una metáfora con la que la autora hace referencia a su amplísimo dominio sobre la sociedad actual.
- Una antítesis con la que la autora contrapone su amplísimo dominio en la sociedad actual.
- Una personificación con la que la autora le añade cualidades humanas a “Twitch”.

11. Con la expresión “Y cuando veo una familia en la que todos están con el móvil pienso que quizás, sin la pantalla, no tendrían nada que contarse.” la autora quiere decir lo siguiente:

- Que afortunadamente todas las familias tienen que contarse muchas cosas más allá de las pantallas de los aparatos electrónicos.
- Que las pantallas son la nueva soledad de los vigilantes nocturnos.
- Que la dependencia de los medios electrónicos es tan grande que muchas familias no tendrían nada que comunicarse más allá de las pantallas de estos aparatos.

12. El tema del texto se puede plantear como:

- La creciente popularidad de la plataforma Twitch entre las distintas generaciones.
- La soledad que se observa entre los usuarios de la plataforma Twitch.
- Los beneficios económicos que proporciona Twitch a la generación Zeta y a las de antes de la guerra.

13. En el tercer párrafo aparece la expresión “siete mil fulanos”. Se trata de:

- Una expresión pertenece al nivel lingüístico coloquial.
- Una expresión pertenece al nivel lingüístico de la jerga juvenil únicamente.
- Una expresión pertenece al nivel lingüístico culto.

14. “Mainstream” se escribe en cursiva porque:

- Es un préstamo lingüístico.
- Es un extranjerismo.
- Es un tecnicismo castellano relacionado con las redes sociales.

15. “Si usted quiere enrolarse en este barco dese prisa, que dentro de unos meses ya estará el mercado copado”. Sustituye esta expresión por una equivalente de las siguientes:

- Si usted quiere entrar en el universo de Twitch, dese prisa porque pronto el mercado estará libre.
- Si usted quiere entrar en el universo de Twitch, dese prisa porque pronto el mercado estará saturado.
- No se preocupe por entrar en el universo de Twitch, porque pronto surgirá otro mercado que no esté copado.

16. “Twitch hace dos años era territorio abonado para el videojuego” es:

- Una oración compuesta enunciativa adversativa.
- Una oración simple enunciativa exclamativa.
- Una oración simple enunciativa afirmativa.

17. Solo una de las enumeraciones siguientes pertenece a un campo asociativo, que aparece en el texto, relacionado con el tema de las redes sociales y/o la tecnología:

- “TikTok”, “Instagram”, “Twitch”, “redes”, “videojuegos”, “móvil”, “pantalla”, “canales”.
- “TikTok”, “Instagram”, “Twitch”, “esclavitud”, “crematístico”, “canales”, “vigilantes nocturnos”, “almohadillas”.
- “TikTok”, “Instagram”, “Twitch”, “metacarpos”, “redes”, “pantalla”, “esclavitud”, “crematístico”, “canales”, “vigilantes nocturnos”, “almohadillas”.

18. Una de las siguientes opciones no es sinónimo de “esclavitud” en la secuencia del primer párrafo “qué esclavitud”:

- Sumisión.
- Independencia.
- Tiranía.

19. Los verbos presentes en la expresión “Si usted quiere enrolarse en este barco dese prisa, que dentro de unos meses ya estará el mercado copado.” se pueden analizar de la siguiente forma:

- “Quiere” está en tercera persona del singular del presente, modo indicativo, aspecto imperfectivo. “De(se)” está en presente del modo subjuntivo y tiene un valor imperativo; “estará” es tercera persona del singular del futuro simple (o imperfecto) del modo indicativo.
- “Quiere” está en segunda persona del singular del presente, modo indicativo, aspecto imperfectivo. “De(se)” está en presente del modo subjuntivo y tiene un valor imperativo; “estará” es primera persona del singular del futuro simple (o imperfecto) del modo indicativo.
- “Quiere” está en tercera persona del singular del presente, modo indicativo, aspecto imperfectivo. “De(se)” está en presente del modo subjuntivo y tiene un valor imperativo; “estará” es tercera persona del singular del pretérito perfecto simple del modo indicativo.

20. “Generacional” es:

- Una palabra compuesta formada por el lexema “generacion-” y el morfema sufijo “-al”, que significa “relativo a”.
- Una palabra simple formada por el lexema “generacion-” y el morfema sufijo “-al”, que significa “relativo a”.
- Una palabra derivada formada por el lexema “generacion-” y el morfema sufijo “-al”, que significa “relativo a”.

CIENCIAS SOCIALES, GEOGRAFÍA E HISTORIA

CUESTIONES:

1. Elige cuál de las siguientes definiciones es la propia del término «barómetro»:

- a) Instrumento que mide la velocidad o la fuerza del viento.
- b) Representación gráfica de las temperaturas medias de un territorio.
- c) Instrumento que sirve para determinar la presión atmosférica.
- d) Medición diaria del nivel del mar.

2. ¿Cuál de estas frases es falsa?:

- a) El sector secundario agrupa las actividades en las que se transforma la materia prima en productos manufacturados.
- b) El clima continental se caracteriza porque sus inviernos son cortos y cálidos.
- c) China es el Estado más poblado del mundo.
- d) Marruecos forma parte de la región del Magreb.

3. Expón qué propuesta de las ofrecidas a continuación puede completar esta frase: «La situación estratégica de España —entre el Mediterráneo y, junto al norte de África y con una relación de siglos con Latinoamérica— formó parte del rompecabezas de la II Guerra Mundial».

- a) Reino Unido.
- b) El mar Adriático
- c) El Atlántico.
- d) La península de Escandinava.

4. Destaca cuál de las siguientes fuentes de energía es renovable:

- a) Petróleo.
- b) Carbón.
- c) Eólica.
- d) Gas natural.

5. Relacionamos los nombres de algunas capitales europeas. ¿Cuál de ellas es la capital de Ucrania?:

- a) Budapest.
- b) Vilna.
- c) Kiev.
- d) Praga.

6. Indica cuál de estos mares pertenece al continente asiático:

- a) Mar Mediterráneo.
- b) Mar Caribe.
- c) Mar del Norte.
- d) Mar Árabe.

7. Señala cuál de estas ciudades de Canarias es Patrimonio de la Humanidad:

- a) San Cristóbal de La Laguna.
- b) Arrecife.
- c) Telde.
- d) Santa Cruz de La Palma.

8. ¿Sabes cuál de estas instituciones canarias se ocupa de investigar la actuación de las administraciones públicas que pueden haber dañado los derechos de las personas?:

- a) El Parlamento.
- b) Los ayuntamientos.
- c) El Diputado del Común.
- d) Los Cabildos.

9. Enumeramos debajo cuatro aportaciones célebres atribuidas al Imperio Romano, pero una de ellas es falsa porque corresponde a otra época histórica. Señala cuál es:

- a) El microscopio.
- b) Los acueductos.
- c) El calendario juliano.
- d) La red de carreteras.

10. Mencionamos a continuación varias ferias de arte importantes. Señala cuál de ellas se celebra en España:

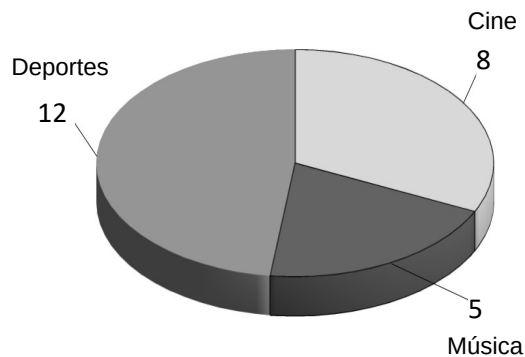
- a) ART DUBAI.
- b) ARCO.
- c) ART BASEL.
- d) ART COLOGNE.

PARTE B: MATEMÁTICAS	NOMBRE	
	APELLIDOS	
	DNI	
	Nº EXAMEN	
		Puntuación:

CUESTIONES:

1. El siguiente gráfico refleja las aficiones de un grupo de 25 amigos. Sabiendo que la moda es la afición que más se repite, ¿cuál es la moda?:

- a) Cine.
- b) Música
- c) Deportes.



2. Una caja contiene ocho bolígrafos. Tres de ellos son rojos y otros cinco son azules. Si extraemos un bolígrafo al azar, calcula la probabilidad de que el bolígrafo extraído sea azul:

- a) La probabilidad de que el bolígrafo elegido sea azul es de $1/3$.
- b) La probabilidad de que el bolígrafo elegido sea azul es de $5/8$.
- c) La probabilidad de que el bolígrafo elegido sea azul es de $3/5$.

3. Una compañía de telefonía móvil cobra a su clientela una cantidad fija al mes de 10 € y 0,1 € por cada minuto de llamada. ¿Cuál es la función que expresa correctamente la relación entre coste mensual y minutos de llamada?:

- a) Coste = $0,1 + 10 \cdot$ número de minutos
- b) Coste = $10,1 +$ número de minutos
- c) Coste = $10 + 0,1 \cdot$ número de minutos

4. Yeray (Y) tiene en la actualidad el doble de edad que Xiomara (X). ¿Cuál de las siguientes expresiones algebraicas representa mejor esa relación?:

- a) $Y = X^2$
- b) $Y = 2X$
- c) $Y = X/2$

5. La entrada general al Museo de la Ciencia y el Cosmos es de 6 euros. Los residentes en Canarias tienen un descuento del 40 %, ¿cuánto pagan por la entrada los residentes en Canarias?:


- a) 2,4 euros.
- b) 4 euros.
- c) 3,6 euros.

6. En un examen de matemáticas, las 10 alumnas de una clase han obtenido las siguientes calificaciones: 3, 4, 4, 5, 6, 6, 6, 8, 8, 10. ¿Cuál es la nota media en matemáticas de las alumnas?:

- a) 60
- b) 6
- c) 7

7. Se quiere vallar completamente un terreno rectangular como el del dibujo. Su lado mayor mide 8 m y el lado menor 3 m. Calcula los metros de valla que hay que emplear para completar el vallado (perímetro del rectángulo).

- a) 22 metros.
- b) 23 metros.
- c) 24 metros.



8. ¿Con cuál de las siguientes medidas de longitud se puede construir un triángulo rectángulo?:

- a) 6 m, 8 m, 10 m.
- b) 4 cm, 12 cm, 14 cm.
- c) 3 m, 4 m, 6 m.

9. Aurora salió una mañana a practicar ciclismo. Sale de su pueblo, Arucas, que está situado a 240 m sobre el nivel del mar. Hace la siguiente ruta:

Primer tramo: ascensión a la villa de Firgas, que está a 225 m sobre Arucas en vertical. **Segundo tramo:** descenso hasta el barrio costero de Bañaderos bajando 415 m, en vertical, desde Firgas.

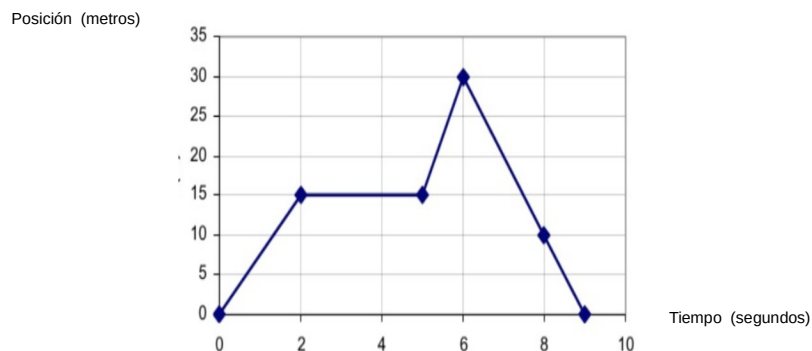
Tercer tramo: subida en vertical desde Bañaderos hasta Fontanales, que está a 950 m por encima de Bañaderos.

Calcula con sumas y restas la altura sobre el nivel del mar a la que se encuentra al final de la mañana.

- a) 1830 m.
- b) 1000 m.
- c) 550 m.

10. La siguiente gráfica representa la posición de un vehículo de pruebas en función del tiempo de un cronómetro. ¿En qué posición o lugar se encuentra a los 8 segundos de empezar la prueba?:

- a) 15 metros.
- b) 30 metros.
- c) 10 metros.



PARTE C: CIENTÍFICO-TÉCNICA	NOMBRE	
	APELLIDOS	
	DNI	
	Nº EXAMEN	
		Puntuación:

CUESTIONES:

- 1. ¿Qué proceso se lleva a cabo en el aparato respiratorio?:**
 - a) Fabricación de orina.
 - b) Inspiración y espiración.
 - c) Formación del bolo alimenticio.
 - d) Transportar oxígeno y nutrientes a las células.

- 2. De la siguiente lista: vagina, vulva, riñón y monte de Venus, indica cuál es la palabra errónea:**
 - a) Vagina.
 - b) Vulva.
 - c) Riñón.
 - d) Monte de Venus.

- 3. De las siguientes acciones, indica cuál se corresponde con un cambio físico:**
 - a) Encender una hoguera.
 - b) Dejar caer una piedra.
 - c) Elaborar pan.
 - d) Hacer azúcar quemada.

- 4. El cambio de estado directo de sólido a gas, sin pasar por el líquido, se llama:**
 - a) Fusión.
 - b) Vaporización.
 - c) Oxidación.
 - d) Sublimación.

- 5. ¿Cuál de las siguientes afirmaciones es verdadera?:**
 - a) Los combustibles fósiles son fuentes de energía renovables.
 - b) El viento es una fuente de energía renovable.
 - c) La energía solar puede producir energía eléctrica a través de una central hidroeléctrica.
 - d) Ninguna de las respuestas anteriores es correcta.

- 6. Son formas de propagación del calor:**
 - a) Convección.
 - b) Radiación.
 - c) Conducción.
 - d) Los apartados a, b y c son ciertos.

- 7. Teide, Garajonay y Timanfaya, son ejemplos de figuras de protección de la naturaleza porque son:**
 - a) Parques rurales.
 - b) Parques nacionales.
 - c) Sitios de interés científico.
 - d) Parajes naturales.

8. Indica cuál de los siguientes organismos tiene nutrición heterótrofa:

- a) Violeta del Teide.
- b) Tortuga boba.
- c) Alga marina.
- d) Ninguna las respuestas anteriores es correcta.

9. La molécula de glucosa tiene la siguiente fórmula molecular: $C_6H_{12}O_6$. Señala la respuesta correcta:

- a) 6 moléculas de C, 12 moléculas de H y 6 moléculas de O.
- b) 6 átomos de C, 6 átomos de H y 6 átomos de O.
- c) 6 átomos de C, 12 átomos de H y 6 átomos de O.
- d) 12 moléculas de C y O y 12 moléculas de H.

10. De las normas preventivas siguientes, indica los beneficios que aporta el uso de mascarillas y distancia de seguridad:

- a) Prevenir enfermedades cardiovasculares.
- b) Evitar la hipertensión.
- c) Prevenir cáncer de piel.
- d) Prevenir el Covid 19.

PARTE D: LENGUA EXTRANJERA (INGLÉS) (VOLUNTARIA)	NOMBRE	
	APELLIDOS	
	DNI	
	Nº EXAMEN	
		Puntuación:

Read the following text and answer the questions about it:

The haka

The haka is a ceremonial Māori war dance or challenge. Haka are usually performed in a group and represent a display* of a tribe's strength* and unity.

Today, haka are still used during ceremonies and celebrations to honour guests and show the importance of the occasion. This includes family events, like birthdays, graduations, weddings and funerals.

Haka are also used to challenge opponents on the sports field. The New Zealand rugby team, the All Blacks, perform the haka before each match in a stunning show of strength. It became a part of the pregame ritual of the All Blacks.

The Black Ferns, New Zealand's women's rugby team, are also famous for performing the haka.

The Māori legend describes the origin of the haka, that is a celebration of life.

The story is about that Tama-nui-te-ra, the sun god, and his wife Hine-Raumati, who embodies summer, had a son named Tane-rore.

On hot summer days, Tane-rore dances for his mother. This light, rapid movement was the foundation of all haka.

display: muestra strength*: fuerza*

Source: www.newzealand.com

1. What is the Haka?:

- a) A Māori team.
- b) A Māori funeral.
- c) A Māori war dance.

2. Where is the Haka originally from?:

- a) It is from Black Ferns.
- b) It is from Australia.
- c) It is from New Zealand.

3. What is the name of the rugby team?:

- a) New Zealand.
- b) All Blacks.
- c) Māori.

4. Celebration of life is the origin of the Haka:

- a) True.
- b) False.

5. Tama-nui-te-ra is the son of Hine-Raumati:

- a) True.
- b) False.

6. Tane-rore dances for his mother on winter days:

- a) True.
- b) False.

7. Choose the CORRECT negative sentence:

- a) Tane-rore don't dance for his mother.
- b) Tane-rore don't dances for his mother.
- c) Tane-rore doesn't dance for his mother.

8. Choose the CORRECT question:

- a) What do the legend describes?
- b) What does the legend describes?
- c) What does the legend describe?

9. Choose the CORRECT sentence:

- a) The All Blacks will dance the haka tomorrow.
- b) The All Blacks will dances the haka tomorrow.
- c) The All Blacks will dancing the haka tomorrow.

10. Choose the CORRECT negative sentence:

- a) This don't include family events.
- b) This don't includes family events.
- c) This doesn't include family events.

PARTE D: LENGUA EXTRANJERA (FRANCÉS) (VOLUNTARIA)	NOMBRE	
	APELLIDOS	
	DNI	
	Nº EXAMEN	
		Puntuación:

Lis le texte et répondez à ces questions:

VACANCES D'ÉTÉ

Bonjour! Comment ça va? Pour moi, tout va bien. Je t'écris pour te dire que je vais partir cet été en Corse avec ma famille. La Corse est une petite île au sud de la France, dans la Mer Méditerranée.

L'année dernière, nous sommes allés en vacances à l'île de Tenerife au mois d'août et j'ai beaucoup aimé cette île de l'Archipel des Canaries. C'est une île avec des paysages très variés et avec la montagne la plus haute de toute l'Espagne: le Teide. Là, à Tenerife, nous avons fait beaucoup d'activités et nous avons même fait du parapente et du kitesurf...Et nous avons mangé des spécialités canariennes comme le gofio, les pommes de terre canariennes, la sauce canarienne et la viande de chèvre. Mes parents disent que l'île de Corse est très jolie: il y a de très belles plages, on va pouvoir nager et pratiquer des sports nautiques. En Corse, nous allons faire aussi de belles randonnées à la montagne. C'est une île très montagneuse. Il paraît qu'on mange bien en Corse: l'une des spécialités de l'île est le fromage de chèvre. J'adore ça. En Corse on parle français, mais les habitants parlent aussi le corse. Nous partons le deux juillet en bateau, après les examens de mon frère et nous rentrons en France le 30 juillet. Et toi, qu'est-ce que tu vas faire? Bisous, Gabrielle.

D'après <https://delfdalf.ch>

1. Où Gabrielle va-t-elle passer ses vacances d'été?

- a) Dans un bateau
- b) Sur une île
- c) Dans le nord de la France

2. En Corse, Gabrielle va pouvoir faire...

- a) De la natation
- b) Du ski
- c) De la gymnastique

3. Que va pouvoir manger Gabrielle en Corse?

- a) De la viande de chèvre
- b) Une sauce spéciale
- c) Un fromage spécial

4. Quand Gabrielle part-elle en vacances?

- a) En août
- b) En juillet et en août
- c) Au mois de juillet

5. Le frère de Gabrielle...

- a) part en vacances juste après ses examens
- b) ne part pas en vacances parce qu'il doit étudier
- c) part en vacances, mais il doit rentrer tôt pour ses examens

6. À Tenerife, ils ont fait du sport à risque, des sports dangereux?

- a) Non, ils ont fait seulement de la natation
- b) Oui, des sports nautiques et des sports aériens dangereux
- c) Oui, de l'escalade et du ski extrême

7. Quelle est la phrase correcte?

- a) Je ne vais pas partir cet été
- b) Je ne vais partir pas cet été
- c) Je ne vais partir cet été pas

8. Quel est le singulier de la phrase “ nous allons faire des randonnées”?

- a) Je va faire une randonnée
- b) Je vais faire une randonnée
- c) J’alle faire une randonnée

9. Quelle est la forme négative de la phrase “les habitants parlent le corse”?

- a) Les habitants ne parlent le corse pas
- b) Les habitants ne pas parlent le corse
- c) Les habitants ne parlent pas le corse

10. Quel est le pluriel de la phrase “Qu’est-ce que tu vas faire”?

- a) Qu’est-ce que vous va faire?
- b) Qu’est-ce que vous allez faire?
- c) Qu’est-ce que vous vont faire?

