

MATERIA: GEOGRAFÍA (3)

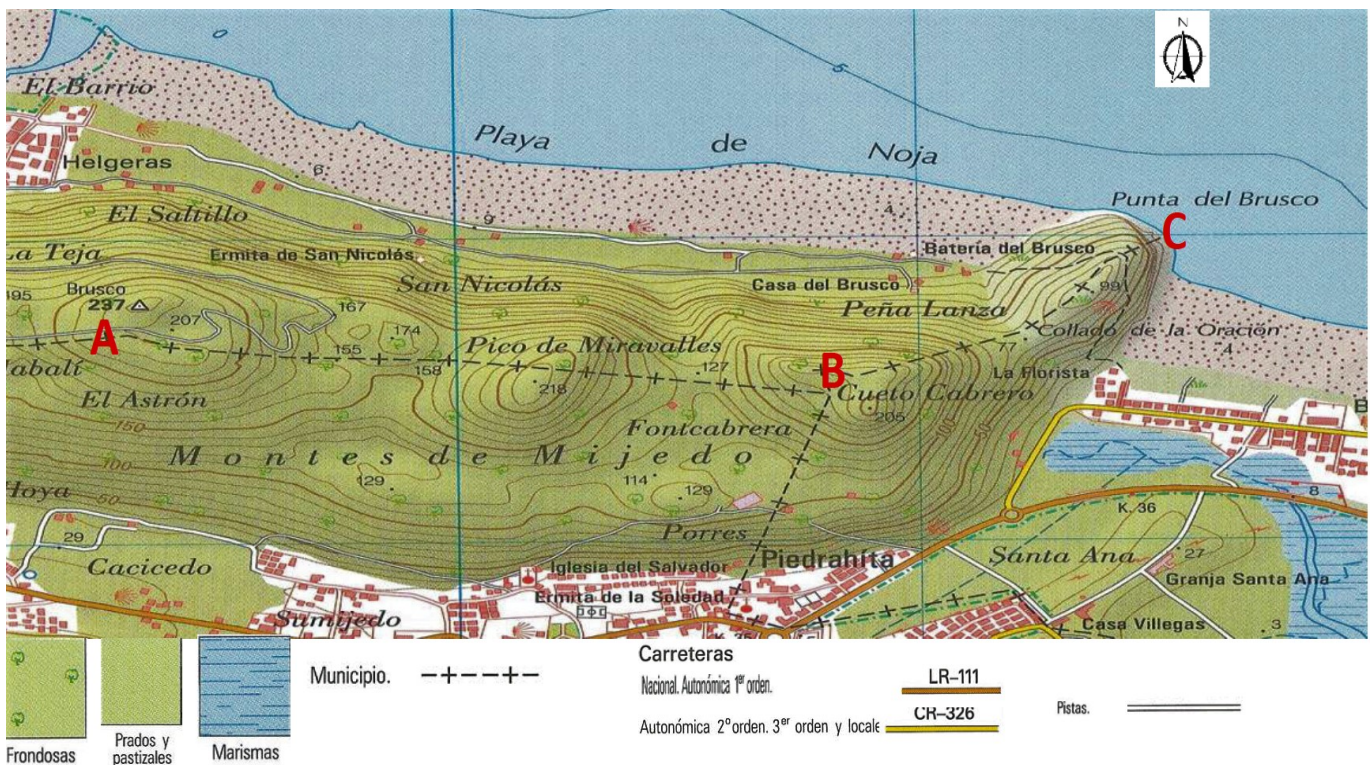
Convocatoria: JULIO

Instrucciones: El examen se organiza en dos grupos (A y B), con preguntas de cuatro tipos en cada uno de ellos. Se podrán elegir preguntas del mismo tipo de cualquiera de los dos grupos hasta completar una prueba compuesta por: 1 Ejercicio práctico, 4 Conceptos, 2 Preguntas teóricas y 1 Pregunta práctica. Las preguntas elegidas se anotarán en las casillas correspondientes de la hoja “Estructura de la Prueba”.

GRUPO A

1) EJERCICIO PRÁCTICO. Se proponen 2 ejercicios prácticos (uno en cada grupo). **Se deberá elegir y contestar 1 de ellos. Puntuación: 2 puntos.** El ejercicio escogido se anotará en la casilla correspondiente de la hoja ESTRUCTURA DE LA PRUEBA.

A1.1 Lectura e interpretación del mapa topográfico. A partir del mapa que se presenta, responde las siguientes cuestiones (1 punto cada cuestión) (Total 2 puntos):



- a) Describe la orografía del recorrido entre A - B y B - C siguiendo la línea que representa el límite entre municipios (-+--+), utiliza para ello la toponimia.
- b) ¿Qué dirección dominante sigues cuando te desplazas, por la referida línea de límite municipal, desde A hacia B y desde B hasta C, respectivamente?

2) CONCEPTOS. Se proponen 8 conceptos (cuatro en cada grupo). **Se deben elegir y contestar sólo 4**, que pueden ser del mismo grupo o de ambos (combinándolos). **Puntuación total: 2 puntos (0,5 cada concepto).** Los conceptos escogidos se anotarán en las casillas correspondientes de la hoja ESTRUCTURA DE LA PRUEBA.

Ha de **copiarse correcta e íntegramente el enunciado del concepto y la respuesta elegida** (no se admitirán contestaciones abreviadas mediante letras o números). Se calificarán como erróneas las respuestas que no se ajusten a este requisito.

A2.1 El Parlamento Europeo:

- * Es elegido por la Comisión Europea.
- * Es la única institución europea que representa directamente a los ciudadanos.
- * Es elegido por el gobierno de los países miembros.

A2.2 En el Estado del Bienestar:

- * La protección social de los ciudadanos corresponde a la iniciativa privada mediante una serie de servicios y prestaciones.
- * El Estado asume la responsabilidad del bienestar de los ciudadanos mediante una serie de servicios y prestaciones.
- * Los países de la Unión Europea siguen una misma política social proporcionando una serie de servicios y prestaciones.

A2.3 El espacio Schengen es:

- * Un acuerdo entre los países de la Unión Europea para impedir la importación de terceros países.
- * La creación de un espacio común en el que se suprimen las fronteras entre los países firmantes y permite la libre circulación de personas.
- * Un convenio suscrito por todos los Estados miembros de la U.E. para impedir la entrada de ciudadanos de otros países.

A2.4 Las Regiones Ultraperiféricas de la Unión Europea son:

- * Islas y territorios que conforman la región macaronésica.
- * Islas y territorios alejados geográficamente del espacio de la Unión Europea.
- * Islas y territorios que renuevan cada diez años su presencia en la Unión Europea.

3) PREGUNTAS TEÓRICAS. Se proponen 4 preguntas de esta modalidad (dos en cada grupo). **Se deberán escoger y contestar sólo 2** que podrán pertenecer o no al mismo grupo. **Puntuación total: 4 puntos (2 puntos cada pregunta).** Las preguntas teóricas escogidas se anotarán en las casillas correspondientes de la hoja ESTRUCTURA DE LA PRUEBA.

A3.1 La influencia de la actividad humana en el medio natural.

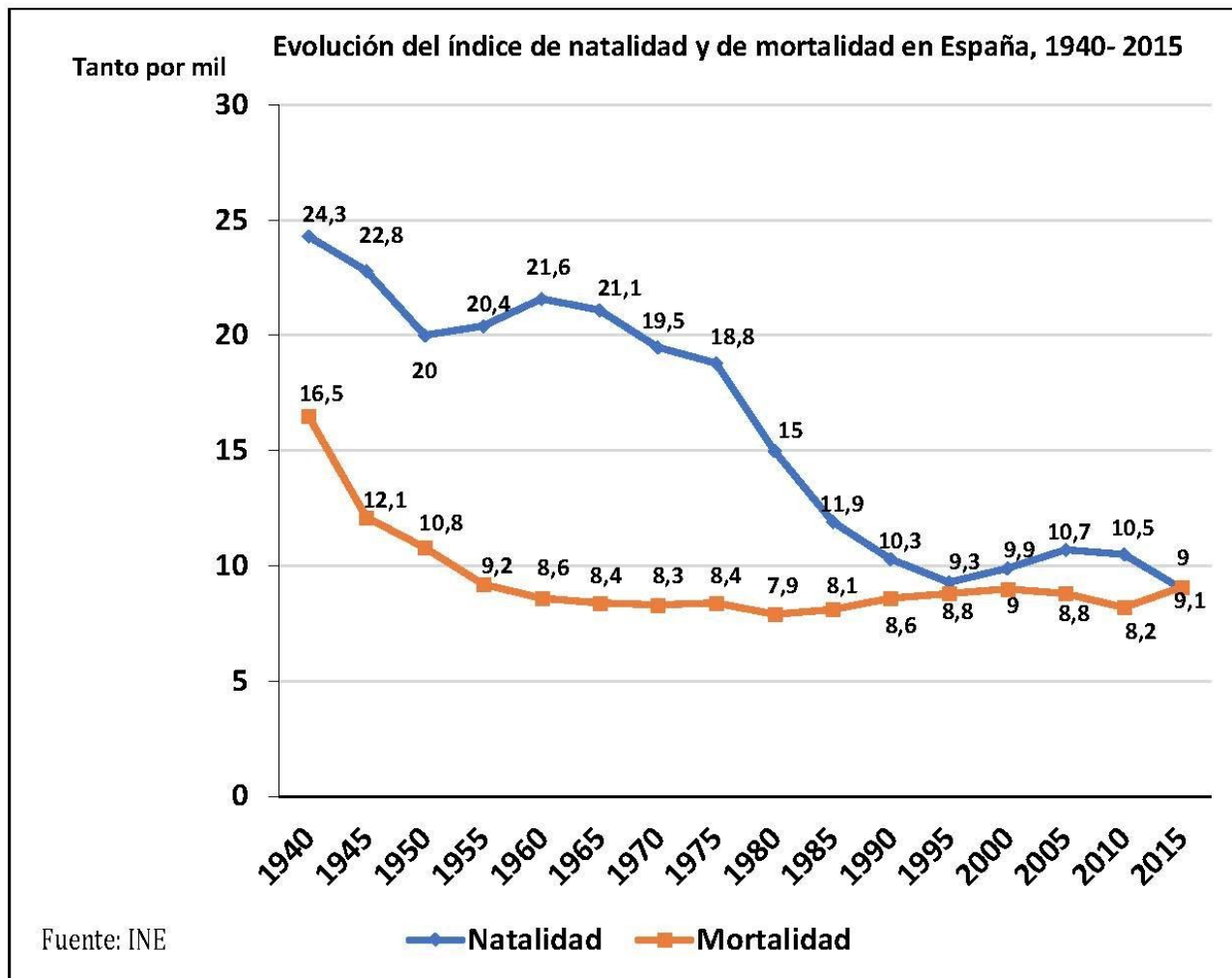
Criterios de evaluación: Identificar los problemas derivados de la interacción de las actividades humanas con el medio natural (ciñéndose a la alteración del relieve, la deforestación y la reducción de la biodiversidad) y señalar las principales políticas medioambientales.

A3.2 La terciarización económica española.

Criterio de evaluación: Explicar las causas del proceso de “terciarización” y la desigualdad territorial.

4) PREGUNTA PRÁCTICA. Se proponen 2 preguntas de esta modalidad (una en cada grupo). **Se deberá elegir y contestar 1 de ellas. Puntuación: 2 puntos.** La pregunta práctica escogida se anotará en la casilla correspondiente de la hoja ESTRUCTURA DE LA PRUEBA.

A4.1 Evolución del índice de natalidad y de mortalidad en España entre 1940 y 2015. (1 punto cada cuestión) (Total: 2 puntos).



a) Describe la gráfica de los índices de natalidad y de mortalidad en España entre 1940 y 2015.

b) Explica las causas de las tendencias de dichos índices y sus consecuencias en el crecimiento natural, prestando especial atención a los cambios más recientes.

**EVALUACIÓN DE BACHILLERATO
 PARA EL ACCESO A LA UNIVERSIDAD (EBAU)
 FASE DE OPCIÓN
 CURSO 2019–2020**

MATERIA: GEOGRAFIA	(3)
Convocatoria: JULIO	

Instrucciones: El examen se organiza en dos grupos (A y B), con preguntas de cuatro tipos en cada uno de ellos. Se podrán elegir preguntas del mismo tipo de cualquiera de los dos grupos hasta completar una prueba compuesta por: 1 Ejercicio práctico, 4 Conceptos, 2 Preguntas teóricas y 1 Pregunta práctica. Las preguntas elegidas se anotarán en las casillas correspondientes de la hoja “Estructura de la Prueba”.

GRUPO B

1) EJERCICIO PRÁCTICO. Se proponen 2 ejercicios prácticos (uno en cada grupo). **Se deberá elegir y contestar 1 de ellos. Puntuación: 2 puntos.** El ejercicio escogido se anotará en la casilla correspondiente de la hoja ESTRUCTURA DE LA PRUEBA.

B1.1 Analiza el siguiente paisaje. (0,5 puntos la primera cuestión y 1,5 la segunda) (Total: 2 puntos).



Fuente: https://cadenaser.com/ser/2018/03/15/economia/1521103739_095008.html

Clasificación de paisajes según los elementos dominantes, respondiendo a las siguientes cuestiones:

a) Señala si se trata de un paisaje natural o humanizado.

b) Justifica tu respuesta comentando en orden a su importancia los elementos principales de cada tipo -naturales o introducidos por la actividad humana- que aparecen, utilizando un vocabulario geográfico.

2) CONCEPTOS. Se proponen 8 conceptos (cuatro en cada grupo). **Se deben elegir y contestar sólo 4**, que pueden ser del mismo grupo o de ambos (combinándolos). **Puntuación total: 2 puntos (0,5 cada concepto).** Los conceptos escogidos se anotarán en las casillas correspondientes de la hoja ESTRUCTURA DE LA PRUEBA.

Ha de **copiarse correcta e íntegramente el enunciado del concepto y la respuesta elegida** (no se admitirán contestaciones abreviadas mediante letras o números). Se calificarán como erróneas las respuestas que no se ajusten a este requisito.

B2.1 El diputado del Común realiza la función de:

- * Representación de los ciudadanos canarios en el Gobierno de Canarias.
- * Representación de los ciudadanos canarios en el Gobierno de España.
- * Defensor de los derechos fundamentales y las libertades públicas de los ciudadanos de Canarias.

B2.2 ¿Qué es un municipio?

- * Es la división administrativa más pequeña y cercana a los ciudadanos de nuestro país.
- * Es la institución responsable del mantenimiento de la red insular de carreteras.
- * Es una reunión de ayuntamientos próximos que se benefician de servicios mancomunados.

B2.3 El Estado de las Autonomías reconoce:

- * La capacidad de las comunidades autónomas para firmar tratados internacionales.
- * La división del territorio en provincias y archipiélagos.
- * La diversidad de los territorios que integran España y su capacidad de autogobierno.

B2.4 Los Cabildos son:

- * Entidades territoriales que agrupan los municipios de una provincia.
- * Corporaciones comarcales del Estado Español.
- * Órganos de gobierno de las Islas Canarias.

3) PREGUNTAS TEÓRICAS. Se proponen 4 preguntas de esta modalidad (dos en cada grupo). **Se deberán escoger y contestar sólo 2** que podrán pertenecer o no al mismo grupo. **Puntuación total: 4 puntos (2 puntos cada pregunta).** Las preguntas teóricas escogidas se anotarán en las casillas correspondientes de la hoja ESTRUCTURA DE LA PRUEBA.

B3.1 Las repercusiones del cambio climático en España.

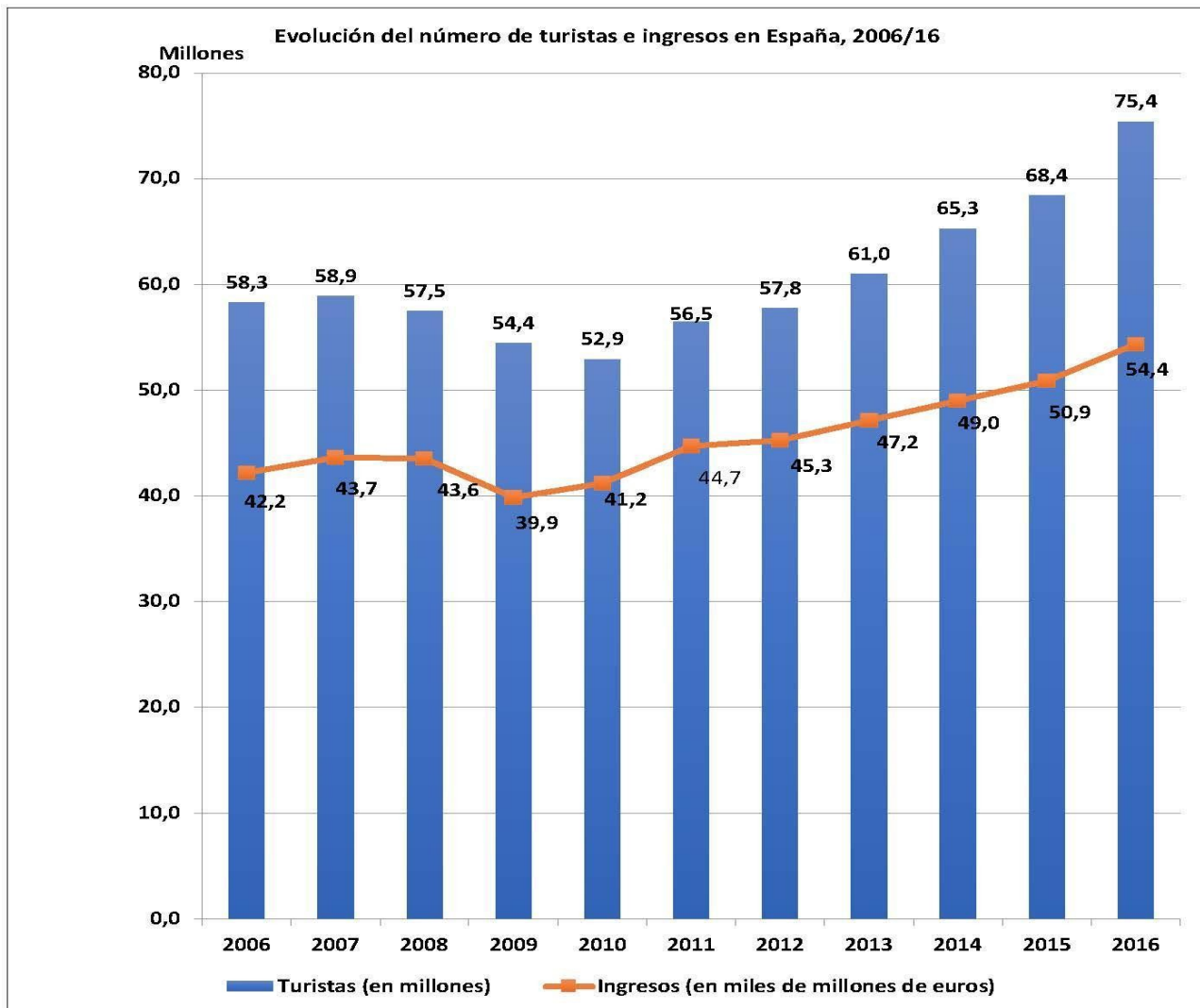
Criterios de evaluación: Valorar las repercusiones ambientales, sociales y económicas derivadas del cambio climático en el territorio español e identificar las posibles soluciones para invertir este proceso.

B3.2 Las aglomeraciones urbanas. El caso de Canarias.

Criterio de evaluación: Se trata de estudiar el sistema urbano canario, el tamaño de las ciudades, la distribución urbana y su jerarquía urbana.

4) PREGUNTA PRÁCTICA. Se proponen 2 preguntas de esta modalidad (una en cada grupo). **Se deberá elegir y contestar 1 de ellas. Puntuación: 2 puntos.** La pregunta práctica escogida se anotará en la casilla correspondiente de la hoja ESTRUCTURA DE LA PRUEBA.

B4.1 Partiendo de la gráfica sobre el número de turistas e ingresos por turismo entre los años 2006 /16, responde a las siguientes cuestiones (1 punto cada cuestión) (Total 2 puntos):



Fuente: Exceltur. Elaboración: Subcomisión EBAU Geografía

- a) Describe la gráfica del número de turistas e ingresos por turismo entre los años 2006-16.
- b) Señala las características del modelo turístico tradicional: factores internos que favorecieron el turismo de masas; características de ese tipo de turismo; repercusiones y vías de mejora.